


# Sachaufgaben mit Malreihen

Nach Zahlenreise 2

Silvia Jetz © 2004


$4 \cdot 3$  Mäuse laufen hinter  $6 \cdot 3$   
Mäusen nach.

Wie viele Mäuse laufen da?



$7 \cdot 3$  Äpfel hängen an einem  
Baum. Anna pflückt  $4 \cdot 3$   
Äpfel.

Wie viele Äpfel hängen noch  
am Baum?




$2 \cdot 3$  Kinder spielen mit  $3 \cdot 3$   
Kinder Verstecken.

Wie viele Kinder spielen  
zusammen?



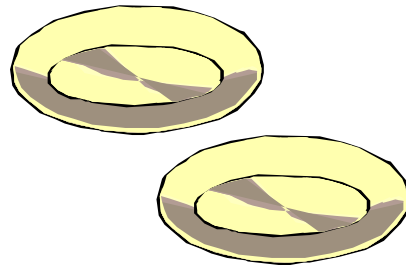
In einem Kübel stehen 50  
Nelken. 5 Nelken werden zu  
einem Strauß gebunden.

Wie viele Sträuße sind das?




Die Wirtin kocht 45 Knödel.  
Auf einen Teller gibt sie  
5 Knödel.

Wie viele Teller braucht sie?



Der Verkäufer hat noch 7  
Netze. In jedes Netz kommen  
10 Salzstangerln.

Wie viele Salzstangerln  
braucht er?



Onkel Max kauft 4 Paar  
Socken. Ein Paar kostet 5 €.

Wie viel bezahlt er?



Beim Turnen bilden immer 3 Kinder einen Kreis. Es werden 6 Kreise.

Wie viele Kinder sind es?




Bernhard hat Schnupfen.  
Er hat schon 10 Zehnerpackungen  
Papier Taschentücher verbraucht.

Wie viele Taschentücher sind das?



Am Bauernhof zählt Peter 32 Katzenbeine.

Wie viele Katzen sind das?



Teile die Zahl 28 durch 4 und zähle 3 dazu.

Wie heißt die Zahl?




Tante Frieda kauft 7 Packungen Strümpfe. Eine Packung kostet 6 €.

Wie viel € muss sie bezahlen?



Eine Ameise hat 6 Beine.

Wie viele Beine haben 7 Ameisen?




Onkel Max sammelt Pfeifen. Im Kasten liegen 54 Stück. Die Pfeifen sind auf 6 Laden verteilt.

Wie viele Pfeifen liegen in einer Lade?



30 Hefte werden von 6 Schülern ausgeteilt.

Wie viele Hefte kann ein Schüler austeilen?




Nimm die Zahl 4 sechsmal.  
Zähle nun 5 dazu, dann 8  
weg.

Welche Zahl hast du jetzt?



Eine Woche hat 7 Tage.

Wie viele Tage haben vier  
Wochen?



Die 7 Zwerge haben  
zusammen 56 Bücher zum  
Lesen.

Jeder besitzt gleich viele.

Wie viele Bücher gehören  
einem Zwerg?




Der Bäcker hat 4 Säcke: In  
jeden Sack füllt er 10  
Semmeln.

Wie viele Semmeln füllt er  
ein?



Max nimmt 6 Säckchen mit je 5 Zuckerln als Geschenk mit zu seinen Freunden.

Wie viele Zuckerln sind das?




Susi hat 2 Puppen. Ihre Freundin Monika hat fünfmal so viele.

Wie viele Puppen hat Monika?




Tante Maria legt 10 Eier in einen Korb. Sie braucht 4 Körbe.

Wie viele Eier hat sie insgesamt?




Regina rechnet 2 Rechnungen. Karl rechnet 4-mal so viele.

Wie viele Rechnungen hat Karl gerechnet?




Mama bäckt einen Blechkuchen. Sie teilt ihn in 25 Stücke; jedes Kind soll davon 5 Stück bekommen.

Wie viele Kinder sind da?



Herr Maier sortiert 16 neue Briefmarken ein. In jede Reihe im Album steckt er 2 Marken.

Wie viele Reihen füllt er?




Mutter arbeitet in der Woche 20 Stunden. Sie geht 5 Tage zur Arbeit.

Wie viele Stunden arbeitet sie am Tag?




Oma verschenkt 50 €. Jedes Kind bekommt 10 €.

Wie viele Kinder beschenkt sie?



Eine Mutter fährt mit ihren beiden Kindern nach Wien.  
Eine Kinderkarte kostet 5 €.

Wie viel kosten die Kinderkarten zusammen?



Michael hat 9 Yu-Gi-Oh Karten. Leo hat viermal so viele.

Wie viele Karten hat Leo?




Der Vater trägt nach dem Urlaub 2 Koffer herauf. Er muss fünfmal gehen.

Wie viele Koffer hat der Vater herauf getragen?



Im Turnsaal werden Bälle an 8 Kinder verteilt. Jedes Kind bekommt 2 Bälle.

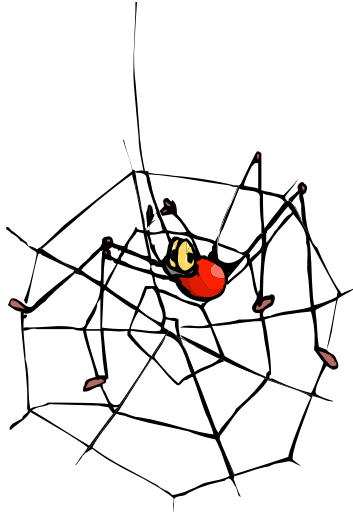
Wie viele Bälle werden verteilt?






Eine Spinne hat 8 Beine.

Wie viele Beine haben 6  
Spinnen?



Ein Schmetterling hat 6 Beine.

Wie viele Beine haben 5  
Schmetterlinge?



Ein Marienkäfer hat 6 Beine.

Wie viele Beine haben 9  
Marienkäfer?




Nimm das Doppelte von 8 und  
zähle 9 dazu.

Wie heißt die Zahl?




Peter hat mit Sechsern 54 Punkte gewürfelt.

Wie oft musste er würfeln?




Marlies hat mit Vierern 12 Punkte gewürfelt.

Wie oft musste sie würfeln?




Papa hat 8-mal eine Sechs gewürfelt.

Wie viele Punkte hat er insgesamt gewürfelt?




Robert besitzt 24 Autos, sein Bruder Ullrich hat nur die Hälfte.

Wie viele Autos hat Ullrich?




Markus hat 68 Kirschen in seinem Sack, er hat schon die Hälfte gegessen.

Wie viele Kirschen hat Markus noch?



Auf einem Baum sitzen 36 Vögel. Die Hälfte fliegt weg.

Wie viele Vögel sitzen noch auf dem Baum?



Die Zahl, die ich mir denke, ist die Hälfte von 50.

Wie heißt die gedachte Zahl?



Die Buben der 1. Klasse sind zusammen 70 Jahre alt.


Alle Buben sind 7 Jahre alt.

Wie viele Buben sind in der 1. Klasse?




1-mal 7 Gänse watscheln vor  
2-mal 7 Hennen über den  
Hof.

Wie viele Tiere sind es?



Iris fährt mit dem Fahrrad zu  
ihrer Oma. Sie fährt  $9 \cdot 6$   
Kilometer.

Wie viele Kilometer muss Iris  
fahren?



Die Mädchen in der 4. Klasse  
sind zusammen 40 Jahre alt.  
Jedes Mädchen ist 10 Jahre  
alt.

Wie viele Mädchen sind in der  
4. Klasse?



Phillip spitzt  $5 \cdot 3$  Farbstifte.  
Etwas später spitzt er noch 5  
Stifte.

Wie viele Farbstifte hat er  
insgesamt gespitzt?

