











Gerade oder ungerade?	gerade	ungerade	
1 	A	F	A
5 	B	A	B
10 	J	C	C
7 	D	E	D
4 	B	E	E
9 	F	H	F
2 	C	G	G
8 	I	H	H
3 	I	G	I
6 	D	J	J

KONTROLLSEITE

Schreibe die geraden und ungeraden Zahlen
je in einer Reihe auf!

gerade: 2, 4, ...

ungerade: 1, 3, ...

